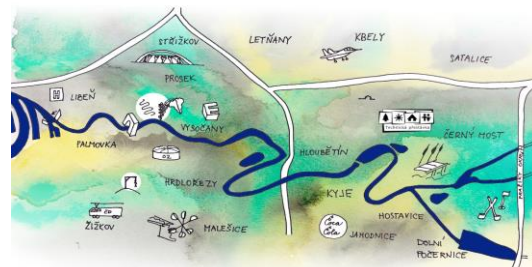


JMÉNO TÝMU: _____

JARNÍ TOULKY PRAHOU 2015

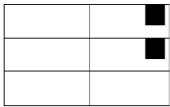


Č.	OBLAST	STANOVIŠTĚ	DOHLEDÁVKA / ÚKOL	BODY	TIP NA VÝLET	ODPOVĚĎ
1	Libeň	zed' Bohumila Hrabala	V místě autobusového nádraží Palmovka kdysi stával domek Bohumila Hrabala, na jeho počest je část zdi nádraží ilustrována. Za hlídaným parkovištěm v ulici Na Hrázi je na zdi nakreslená polička s knihami. Čí kniha se nachází mezi Františkem Bobo Aničkou a Andy Warholem?	2		
2	Libeň	ulice Na Hrázi	V polovině této ulice najdete nakreslený obrázek 1x1m, který nápadně připomíná logo tábora Technická přestávka 2010. Čemu dělá obrázek reklamu?	1		
3	Libeň	libeňské činžáky	Spočítejte, kolik červených koulí je na soše na sloupu ve vnitrobloku obytných domů. (Tolerance +-1)	2		
4	Libeň	zrušený železniční most vedle viniční usedlosti Kolčavka	Stojíte-li v místech, kde by nad vámi stál před 100 lety most do zrušených zastávek Libeňské nádraží a Praha-Těšnov, uvidíte na severním pilíři mostu velké růžové sgrafiti začínající: Why are we so ...? Doplněte 1 slovo	2		
5	Libeň	lezecká stěna (boulder) na dětském hřišti	Cedulka na boulderu ukazuje přesný den výroby výrobku. Kdy to bylo?	1		
6	Libeň	Libeňský plynojem	Symbol Libně. Vchod branou z ulice Ke Kouli na severovýchod od plynojemu. Jděte pod kouli plynojemu a změřte výšku nejnižšího bodu koule od země. Tolerance +- 10 cm.	4	Plynojem je dnes a zítra výjimečně otevřen pro veřejnost. Využijte toho.	
7	Libeň	sportoviště u Libeňského plynojemu	brána vstupu na sportoviště s výhledem na plynojem: Na bráně je cedule POZOR! OBJEKT HLÍDÁN PSEM. Jaká cedule visí asi o 5 m dále na jednopatrové budově č.p. 274?	1		
8	Libeň	Parčík u ulice Františka Kadlece	altánek - změřte osovou vzdálenost dvou sloupů (tolerance +-10cm)	2		
9	Žižkov	dětské hřiště Krejčárek	Co je uprostřed dětského kolotoče? (barva + co)	1		
10	Žižkov	lesopark Krejčárek	Hlavní cedule areálu DiscGolfPark Krejčárek s plánkem jamek a vysvětlivkami, jak hrát. Opiště větu z obrázku č. 3 (před smajlíkem).	1		
11	Žižkov	zahrádkářská kolonie Balkán	Oplocení zahrádek na jih od cesty má očíslované betonové sloupky. Jaký stroj je naproti přes cestu od betonového sloupku č. 250? Pojmenujte nebo nakreslete.	2		




12	Žižkov	Balkán	Na křižovatce směrem na fotbalové hřiště na Balkáně je obytná buňka s přístavkem se "zelenou střechou" a spoustou zajímavé výzdoby. Jaké zvíře je v severozápadním rohu budovy?	2		
13	Žižkov	rezidenční park Na Vackově (ulice Olgy Havlové)	vnitřní náměstí, dům č.p. 16. Kdo bydlí v bytě č. 103? (viz zvonky venku)	1		
14	Žižkov	Židovské pece	dětské hřiště, zelený sloupek z krychliček s návštěvnickým řádem hřiště (hned u branky hřiště). Jaký ideogram je pod "Zákaz vstupu se psy" napravo od "Zákaz roždělávání ohně"?	2	velmi populární grilovací koutek na vlastní party	
15	Střížkov	budova metra	Výtah obdélníkového tvaru ve směru na Park přátelství - jaké má evidenční číslo?	1		
16	Střížkov	psí salon Jablonecká 365	Jaké nápisy jsou na psích oblečcích z výlohy psího salonu?	1		
17	Prosek	Park přátelství	Amfiteátr (JV část parku) - jaké šestimístné číslo má lampa, která je uprostřed pod amfiteátr ?	1		
18	Prosek	Automat na artéskou vodu (u kontejnerů)	Jaký objem sycené vody se zde dá načepovat za 10 Kč?	1		
19	Prosek	kostel sv. Václava	Zed' jdoucí kolem kostela naproti naučné ceduli - jaký letopočet je vyryt pod reliéfem lebky se skříženými hnáty?	1		
20	Prosek	Prosecké skály	Najděte vstup do labyrintu podzemních chodeb, co je pod skalami (kovová dvířka pod skálou začernalou od sazí - nejnáchodnější část skály, na dohled od naučné cedule). Změřte OBVOD čtvercového okénka ve dvířkách.	2	na naučné ceduli najdete fotky z podzemí	
21	Prosek	Fitness hřiště	Obkreslete nákras cvičícího stroje, kde se točíte ve stoje na kulaté podložce kolem své osy (viz jeho kovová cedulka).	1		
22	Prosek	Vyhlička Emy Destinové	lavička u silnice s výhledem do údolí - na noze lavičky je napsané datum "XX/X/XX Mirek :-)"	2	výhled na Vysočany, Libeň a další součásti JTP 2015	
23	Prosek	dopravní hřiště na Proseku	Kolik stojí litr Naturalu na benzince na dopravním hřišti?	2	vstup 10 Kč/den	
24	Prosek	Vetřelci a volavky - zrušená školka na sídlišti	V zahradě bývalé školky jsou sochy tzv. Vetřelců a volavek. Jedna vypadá jako obří kosmonautka (kyslíkové bomby na zádech). Co má napsáno na levém rukávu?	2		
25	Prosek	Park Václavka	dětské hřiště - Malé kovové kulaté destičky jednotlivých průlezek ukazují jméno firmy, která průlezky dodávala a jejich logo. Co je na obrázku loga za zvířátko? (Nepoznáte-li, obkreslete.)	1		
26	Vysočany	Nádraží Vysočany	Strašidelný tunel pro pěší pod kolejištěm - v části tunelu je kamenná dlažba. Kolik řad za sebou má? (tolerance +-3)	1		
27	Vysočany	Park Podviní	Dětské hřiště v podobě skalního hradu - najděte tunel, co má na výšku téměř 2m - jaký čtyřpísmenný modrý nápis má sgrafitti na jeho stěně? (Je to v cizí řeči jistě zvíře.) Nápis je blízko otevřené chodby hradu.	2	lanové centrum, plocha vhodná pro hry a sport, romantický potůček, netradiční hřiště, blízko bobová dráha a vinice	

28	Vysočany	Trafogalerie	elektrosloupek před vchodem (z ulice Českomoravské) Doplňte sgrafitti nápis: "We are looking for...!"	1	nedávno zavřená	
29	Vysočany	O2 aréna	Konec drátěného plotu v severním cípu areálu O2 arény při ulici Ocelářská (blízko vlajek). Na konci plotu je malá QR samolepka s nápisem "You found me. Scan for points." Opište webovou adresu.	1	Mimo mistrovství světa jsou nádvoří a interiéry 1. patra (díky minigolfu) volně přístupné.	
30	Vysočany	Ocelářská 344/10	Cedule vlevo od vstupu do bytového domu - Jakou cenu tento dům vyhrál?	1		
31	Vysočany	most pro cyklisty	Kovová "elektroskříňka" na pilíři lampy. Jaký světadíl je na samolepce na skříňce?	1		
32	Vysočany	teplovod u zahrádkářské kolonie	Křížení dvou teplovodů, lávka nad průběžným potrubím, co vede podél trati (přístup po žebříku vedle sgrafitti "hovnoman"). Nahoře je kulatý zarezlý předmět (pravděpodobně ventil) s vyraženým sériovým číslem XXXX-XX. Nahrďte čísla.	2		
33	Vysočany	sad	Opište číslo stromu na spojnici mezi stromy č. 77 a 35	4	mooc hezké brzy z jara	
34	Vysočany	park Ke Klíčovu	Sloup vysokého napětí v parku (zarezlý, příhradový, žlutá cedulka "39") - Opište text z cedulky	1		
35	Vysočany	schodiště naproti chladicí věži	Lampa č. 904145 ve spodní části schodiště má ze své druhé strany cedulku hraněného stožáru - jaké je její výrobní číslo podle firmy Enest?	1	výhled na kulturní památku - dřevěnou příhradovou chladicí věž v ČKD	
36	Vysočany	Květinové hřiště Na Krocínce	Jak se jmenuje firma, která vyrobila průlezky? (viz kovové destičky na každé průlezce)	1		
37	Vysočany	komín na Harfě	Přístup od jihu po louce mezi železnicí a blokem budov s komínem. Ke komínu přiléhá z jihu budova, na jejíž východní fasádě je jistý kulatý obrázek. Co znázorňuje?	2		
38	Vysočany	les u Flajšnerky	nový mostek přes potůček - na stromu u mostku je nasprejovaná lebka a mužské jméno. Jaké?	1		
39	Vysočany	rugbyové hřiště u haly ČKD č. 19	Asi 10 m nalevo od infocedule Rugbyové hřiště zjistíte, co podpořilo invazi vojsk Varšavského paktu do ČSR v r. 1968	1		
40	Vysočany	bývalá ČKD hala	Podíváte-li se prostředním oknem východní fasády dovnitř haly (pod oknem jsou pneumatiky), je na prvním sloupu vpravo od vás černý sgrafitti nápis. Jak zní? (Je to druh zvířete.)	2	Nechodte do haly!!! Nechodte do ČKD areálu, v lesíku severně od vás bydlí bezdomovci. Obejděte areál z východu.	
41	Vysočany	Nad Rokytkou ul. Nepelova	Zajímá vás 1. etapa z celkových 8i rezidenčního komplexu Nad Rokytkou (naproti přes ulici se staví nejnovější, 4. etapa). V ulici Nepelova uprostřed je vidět hodiny a la TP symbol - 4 barvy se 4 vykrojenými tvary. Pojmenujte/obkreslete je, napište barvu.	1	V těchto místech bývala dělnická kolonie Čína. V místech cyklostezky bývala železniční vlečka ČKD.	
42	Vysočany	Fitness stezka Rokytká - tunel pod mostem	Na stěnách jsou nápisy pro motivaci sportovců. Opište alespoň 3.	1		

43	Vysočany	ČKD - chráněný komín vedle chráněné haly E	Opište 1. řádek z reklamy na komínu.	1	Nesnažte se projít areál ČKD skrz. Zastaví vás hlídač nebo bezdomovci. Obejděte areál z východu.	
44	Malešice	Botanická zahrada SOŠ v Praze 9	Vnější zeď zahrady (v místě výhledu do zahrady na jezero a zámeček) s cedulí o spolufinancování projektu obnovy historicky cenného území a likvidace ekologických zátěží EU. <i>Kdo byl hlavní stavbyvedoucí?</i>	3	otevřeno Po-Pá 7-18:00 krásné... skleníky, pávi, potok...	
45	Malešice	náves	Na návsi u hlavního silničního tahu obcí stojí 3 dřevěné oblouky. K jakým stavebním slohům patří? (Odpověď najdete na zadní straně oblouků.)	1		
46	Malešice	Milíčova modlitebna	Naučná cedule č.7 Dole pod cedulí je na dřevěné desce otázka s 3mi možnostmi. Která odpověď je správná? (viz zadní strana cedule)	1		
47	Malešice	Malešický les	Naučná cedule, část "Víte, že..." Co bylo na místě tohoto lesa před druhou světovou válkou?	2		
48	Malešice	Malešický park - hudební klapky	Hudební klapky v zemi (píšťaly se vzhledem železničních pražců 13 m severovýchodně od větrníku). Jaký hudební interval vydávají klapky v pozici na obrázku? 	2	spousta hrátek s vodou, technikou, ozvěnou, zvukem, inline dráha, houpačky...	
49	Malešice	Malešická zeď	Změřte POLOMĚR největšího kruhu ve zdi. (tolerance +- 5 cm)	1		
50	Malešice	trafostanice	Západní stěna. Co podává na obrázku na stěně jeden robot druhému?	2		
51	Malešice	velodrom Na Třebešíně	Co se nachází na závodisti mezi kovovým točitým schodištěm a bílou lávkou, co je nad velodromem?	4	Velodrom je dnes a zítra výjimečně otevřen pro veřejnost. Využijte toho a jděte si zajezdit!	
52	Hrdlořezy	bunkr Třešňovka	V sadu na vrcholu kopce s výhledem na Pražské služby se nachází malý bunkr z 2. světové války. Změřte šířku vchodu bunkru.	3	výhled na Vysočany, Libeň a další součásti JTP 2015 ideální místo na prvomájovou pusu	
53	Hrdlořezy	viadukty nad Rokytkou	Strom nad naučnými cedulemi o Bitvě u Štěrbohol. Strom má ceduli: Zákaz skládky pod pokutou ? Kč.	1		

54	Hrdlořezy	meandry Rokytky	Zatím jediná dřevěná lávka přes Rokytku - z kolika dřevěných hranolů je tvořena? (tolerance +-2)	2	Kdo to tu znal před 2 lety, nepozná to tu dnes, zmizel ráj nutrií, Rokytka byla zasypaná, nové meandry vybudovány. A jak to bude vypadat za další 2 roky?	
55	Hrdlořezy	Hrdlořežská 40/13 (červená/modrá)	Co význačného se stalo na této adrese? (cedule na fasádě domu)	2		
56	Kyje	Herdovská 7	Co dělá dřevěný chlapec na verandě?	1		
57	Kyje	Podědvorská 291	Zelená značka na ceduli značí dočasnou stavbu. Jak vypadá dočasná stavba pod touto adresou? (je v zahradě, není to ta garáž u cesty)	1		
58	Kyje	dopravní hřiště	Najděte alespoň jeden dopravní nonsense. (= situace s chybným značením)	2		
59	Kyje	suchý poldr Čihadla	Změřte aktuální výšku hladiny Rokytky (výškoměr je na východní straně betonového objektu, číslo je v m.n.m.)	2		
60	Kyje	pomník 2.sv.v. u kostela (s motivem zabíjení německé orlice)	Opište jméno prvního Rudoarmějce, které je napsáno na pomníku obětí 2.sv.v.	1		
61	Kyje	Artefakt / rozhledna Martina Rajniše	Cedulka Artefakt s nákresem stavby: jaké příjmení měl student Ondřej z FA VUT, který pomáhal stavět Artefakt?	3		
62	Kyje	zahrádka u železnice	Jakou barvu má maringotka v zahradce u železničního mostu?	1		
63	Kyje	dětské hřiště	Na lezecké stěně ve tvaru Pravčické brány má 1 chyt tvar zvířete-obratlovce. Určete barvu+zvíře.	2		
64	Kyje	Rajský vrch	Dřevěný kříž na vrcholu kopce: Jaká 3 písmena jsou do kříže vyryta mezi dvěma srdci? (Resp. 1 písmeno se 3x opakuje)	1		
65	Hloubětín	PP Cihelna v Bažantnici	Vyhlídkový bod - na nejvyšše položené holé hliněné terase je do země zabudovaná vybledlá červená krabička 10x10 cm, jaký dvouslovný nápis je na ní vyrytý? (Stanoviště je částečně poškozeno, opište, co přečtete, pokud si neumíte zbytek nápisu domyslet.)	3	krásný výhled, přístup nově založenou alejí	
66	Hloubětín	figurína v bývalém lomu	Asi 30 m jižně od cyklostezky, na odbočce do bývalého, dnes již zarostlého lomu, leží za posledními kládami bezhlavá figurína lidského rozměru s oděvem. Popište co nejpřesněji, co má na horní části těla.	2		
67	Hloubětín	Vizířská - nový park	Kulatá zeď objektu MŠ s obrázky z exotických oblastí - jaké zvíře je nakresleno mezi lamou a velbloudem?	1		
68	Hloubětín	Lehovec	Od jihovýchodu uvidíte z lesa na dvůr prodejny jisté automobilové značky. Jaké?	2		

69	Hloubětín	zahrádkářská kolonie	Křižovatka silnice a pěšiny jdoucí na západ: Kolik dřevěných kůlů stojí na křižovatce podél silnice jižně od zeleného kovového sloupku? (tolerance +-1)	1		
70	Hloubětín	Hloubětínský zámeček	Při pohledu od silnice k zámečku, co je nalevo od vstupní brány na začátku budovy D?	2	Novogotický zámek má hezkou zahradu stojící nad Pražským profilem. Obvykle je volně přístupná, ale občas je tam hlídač. Budete-li moct, nakoukněte.	
71	Hloubětín	Kejřův park podporuje umění	Sochy za plotem u bytovek, u cyklostezky. Jak se liší socha Zdeňka Hůly na fotce a v reálu? (Každá socha má jiného autora, najdete ho v popiskách na ceduli sochy.)	2		
72	Hloubětín	Na staré hospodě	Co je nejčastější dekorací na stěnách uvnitř hospody?	1		
73	Hutě	Bílý kůň - labyrint podzemních chodeb	Najděte vstup do podzemí a změřte rozměry otevíravého víka X*Y. Víko je červené, kovové, s dvěma kruhovými otvory. (Otvor najdete 5 m od silnice, naproti vjezdu do garáže 3. domu v ulici od křižovatky Za černým mostem-Nad Hutěmi (cihelňový obklad).) Tolerance +- 5 cm.	3	Nechodte dovnitř! Fotky z podzemí si vygooglete nebo na ně koukněte na nedaleké infoceduli. Poklop je navíc přivařený :)	
74	Hutě	křižovatka Vírská-Jamská	Pojmenujte bizarní dopravní upřesnění značky Dej přednost v jízdě na křižovatce.	1		
75	Hutě	začátek cyklostezky s alejí	Značka konec pěší zóny - žlutá nálepka rodinného klubu. Nabízí "čertovský (doplňte 1 slovo)"	2		
76	Hutě	minigolf	Nakreslete/popíšte, jak vypadá dráha mezi drahou s dvěma terénními vlnami a drahou s cílem na konci 45° šikmého mostku.	1		
77	Hutě	Pelušková 1408	Do fasády domu byl nalevo od dveří zabudován neobvyklý předmět. Jaký?	1		
78	Černý Most	náměstíčko s "okrasnými skružemi"	Blízko pingpongového stolu je cedule s návštěvním řádem parku, na ní je v zeleném rámečku nálepka jednoho fotbalového klubu. Jak zní její motto?	1		
79	Černý Most	hrací kostky - socha	Jste v části, kde se ulice jmenují po českých letcích, bojujících v 2.sv.v. pod vlajkou VB. Na křižovatce Kučerova-Sobkova, pod sochou deštníku, jsou rozházené betonové kostky. Zpočtete součet všech hozených čísel (teček).	2		
80	Černý Most	Plechárna	Světle zelená cedule vedle brány láká k návštěvě komunitní zahrady. Obrázek na ceduli ukazuje 3 hnědé obloučky a 2 ??? (jaký další prvek)	1	komunitní centrum - spousta akcí během roku, vedle skate park	
81	Černý Most	golfové hřiště Černý Most	Hole 14 - cedule Jak dlouho trvá hra od Hole 1 po holi 14? alias "Time from Tee 1" (tečkovaná cesta v mapě jde na severu přes mělký brod, pokračuje asfaltkou. Nechcete-li projít skrz celé hřiště až k bráně na jihu, vraťte se stejnou cestou, odkud jste přišli, žádné zkratky!)	4	Pozor! Na golfovém hřišti můžete jít jen po stezce pro návštěvníky - v mapě tečkovaně.	
82	Černý Most	golfové hřiště Černý Most	lávka přes silnici jaký objekt s půdorysem čtverce se nachází nahoře vedle lávky přes silnici?	1		

83	Hostavice	lávka přes Svěpravický potok	Změřte délku prostředního prkna lávky (11. prkno z obou stran) Tolerance +-5 cm	2		
84	Hostavice	Froncova 11	Auta které zahraniční značky parkují před tímto domem?	1		
85	Hostavice	u zámku a zvoničky	Nalevo od naučné cedule je bílo-modrý orientační sloupek pro vodovodní řád. Opište číslo ze spodního řádku červené cedulky.	1		
86	Hostavice	dětské hřiště	Jaké zvíře imituje herní prvek na hřišti, který má 3 pružiny?	1		
88	Dolní Počernice	amfiteátr u bývalého pivovaru	Kolik žárovek osvětluje plochu jeviště? (tolerance plus minus 3)	1		
89	Dolní Počernice	vesnický dvůr	Na dvoře počernické knihovny + i-centra + pošty + muzea je objekt z nákresu. K čemu slouží? 	1		
90	Dolní Počernice	Zámecký park - exteriér zámku	Na zámku sídlí dětský domov a mateřská školka. Školka má na zahrádce dětské hřiště. Jaké zvíře se nachází na vršku 2m kůlu?	1		
91	Dolní Počernice, Jahodnice	Hostavický potok - revitalizace	Na dřevěném kůlu je vyřezané zvíře stojící na "žaludu" a mající na hlavě "diamant". O jaké zvíře jde? Popište i jeho postoj.	1		
92	Dolní Počernice, Jahodnice	dětské hřiště u Hostavického potoka	Jaký přírodní motiv zobrazují motivy na dětském hřišti?	1		
93	Dolní Počernice	rybník V pískovně geologická zahrada	Odkud pochází kámen hlíznatého vápence umístěný v geologické zahradě?	2		
94	Dolní Počernice	rybník V pískovně	Naučná cedule - naděte na mapě naučné cedule alespoň 1 odlišnost oproti mapě JTP	2		
95	Dolní Počernice	Kočí hrádek	Obkreslete tvar nosu kočky	2		

NAUČNÁ STÁNÍ - Napište jméno naučného stání, na jehož zadní straně cedule visí daný symbol z loga TP - 5 bodů za logo



STANOVIŠTĚ S ÚKOLY - Vyplní org

A	hudba	Hloubětín	molo, Hořejší rybník	4	12:00-16:30, na 5 min	
B	sport	Vysočany	fitness hřiště u Rokytky	4	12:00-16:30, na 5 min	
C	tanec	Prosek	Park přátelství - u sochy Wolkera	4	12:00-16:00, na 10 min	

FOTOÚKOLY - min. 1 člen týmu musí být na fotce - **PŘEDVYPLŇTE, zda jste splnili, než dojdete do cíle!!!!**

D	Rajská zahrada	živý komiks u trafostanice	Napodobte figury malované na trafostanici a vyfoťte se vedle nich (aby byl originál zachycen na fotce). 3 body za 2 kompozice.	3	Splněno? ANO - NE	
E	Jahodnice	halda	Vyfoťte se na vrcholu haldy, aby šlo poznat, kde stojíte.	3	Splněno? ANO - NE	
F	Rokytky	nutrie	Vyfoťte se s živou nutrií (bobr s tenkým ocasem). Orgové viděli nutrie na vyznačených místech v mapě, ale fotit se můžete kdekoliv.	3	Splněno? ANO - NE	
G	Prosek	bobová dráha u vinice Máchalky	Vyfoťte se s bobovou dráhou.	3	Splněno? ANO - NE	